

# Guía de Música para evaluar el 2do trimestre 2020 correspondiente al Manual A.

## Para los grados 1ro, 2do y 3ro de Primaria

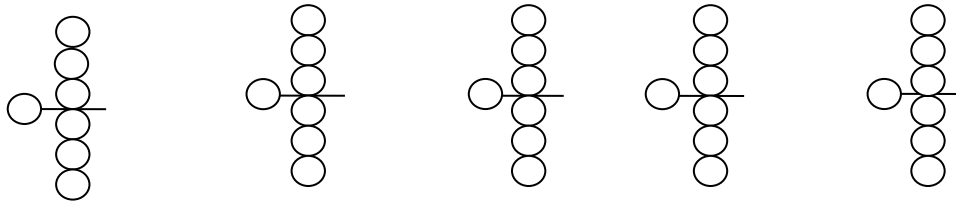
1.- Nombre y duración de la siguiente nota musical: \_\_\_\_\_



2.- Nombre de las siguientes notas musicales:



3.- Ilumina los siguientes esquemas de flauta como lo indica su nombre:



SI

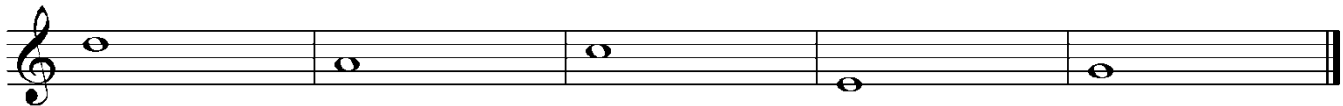
LA

SOL

DO6


RE6

4.- Indica con (L) si la nota está en línea y (E) si esta en espacio dentro del pentagrama.




\_\_\_\_\_

5.- Dibuja en el siguiente cuadro la clave de sol como en el ejemplo.



6.- Escribe el nombre en las líneas de las siguientes notas del pentagrama:



7.- País donde nació el compositor llamado Johannes Brahms y menciona una obra importante compuesta por él.

\_\_\_\_\_

8.- Practica con la flauta la pieza "El amor de una mujer" pág. 68 del manual de música, se te preguntara en clase.